

WYPEŁNIA ZDAJĄCY

KOD

--	--	--

PESEL

--	--	--	--	--	--	--	--	--	--	--	--

Miejsce na naklejkę.

Sprawdź, czy kod na naklejce to
M-100.

Jeżeli tak – przyklej naklejkę.
Jeżeli nie – zgłoś to nauczycielowi.

Egzamin maturalny

Formuła 2023

MATEMATYKA

Poziom podstawowy

Symbol arkusza

MMAP-P0-**100**-2305

DATA: **8 maja 2023 r.**

GODZINA ROZPOCZĘCIA: **9:00**

CZAS TRWANIA: **180 minut**

LICZBA PUNKTÓW DO UZYSKANIA: **46**

WYPEŁNIA ZESPÓŁ NADZORUJĄCY

Uprawnienia zdającego do:

- dostosowania zasad oceniania
- dostosowania w zw. z dyskalkulią
- nieprzenoszenia zaznaczeń na kartę.




Przed rozpoczęciem pracy z arkuszem egzaminacyjnym

1. Sprawdź, czy nauczyciel przekazał Ci **właściwy arkusz egzaminacyjny**, tj. arkusz we **właściwej formule**, z **właściwego przedmiotu** na **właściwym poziomie**.
2. Jeżeli przekazano Ci **niewłaściwy** arkusz – natychmiast zgłoś to nauczycielowi. Nie rozrywaj banderol.
3. Jeżeli przekazano Ci **właściwy** arkusz – rozerwij banderole po otrzymaniu takiego polecenia od nauczyciela. Zapoznaj się z instrukcją na stronie 2.





Instrukcja dla zdającego

1. Sprawdź, czy arkusz egzaminacyjny zawiera 31 stron (zadania 1–31).
Ewentualny brak zgłoś przewodniczącemu zespołu nadzorującego egzamin.
2. Na pierwszej stronie arkusza oraz na karcie odpowiedzi wpisz swój numer PESEL i przyklej naklejkę z kodem.
3. Symbol  zamieszczony w nagłówku zadania oznacza, że rozwiązanie zadania zamkniętego musisz przenieść na kartę odpowiedzi.
4. Odpowiedzi do zadań zamkniętych zaznacz na karcie odpowiedzi w części karty przeznaczonej dla zdającego. Zamaluj  pola do tego przeznaczone. Błędne zaznaczenie otocz kółkiem  i zaznacz właściwe.
5. Pamiętaj, że pominięcie argumentacji lub istotnych obliczeń w rozwiązaniu zadania otwartego może spowodować, że za to rozwiązanie nie otrzymasz pełnej liczby punktów.
6. Rozwiązania zadań i odpowiedzi wpisuj w miejscu na to przeznaczonym.
7. Pisz czytelnie i używaj tylko długopisu lub pióra z czarnym tuszem lub atramentem.
8. Nie używaj korektora, a błędne zapisy wyraźnie przekreśl.
9. Nie wpisuj żadnych znaków w tabelkach przeznaczonych dla egzaminatora.
Tabelki umieszczone są na marginesie przy odpowiednich zadaniach.
10. Pamiętaj, że zapisy w brudnopisie nie będą oceniane.
11. Możesz korzystać z *Wybranych wzorów matematycznych*, cyrkla i linijki oraz kalkulatora prostego. Upewnij się, czy przekazano Ci broszurę z okładką taką jak widoczna poniżej.




**Zadania egzaminacyjne są wydrukowane
na następnych stronach.**


Zadanie 3. (0–2)

Wykaż, że dla każdej liczby naturalnej $n \geq 1$ liczba $(2n + 1)^2 - 1$ jest podzielna przez 8.

3.

0–1–2





Zadanie 12.3. (0–1)

Dokończ zdanie. Wybierz właściwą odpowiedź spośród podanych.

Funkcja f jest malejąca w zbiorze

A. $[-6, -3)$

B. $[-3, 1]$

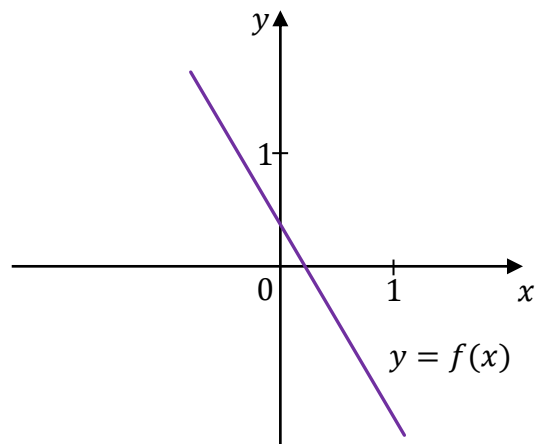
C. $(1, 2]$

D. $[2, 5]$

Brudnopis																			

Zadanie 13. (0–1)

Funkcja liniowa f jest określona wzorem $f(x) = ax + b$, gdzie a i b są pewnymi liczbami rzeczywistymi. Na rysunku obok przedstawiono fragment wykresu funkcji f w kartezjańskim układzie współrzędnych (x, y) .



Dokończ zdanie. Wybierz właściwą odpowiedź spośród podanych.

Liczba a oraz liczba b we wzorze funkcji f spełniają warunki:


A. $a > 0$ i $b > 0$.

B. $a > 0$ i $b < 0$.

C. $a < 0$ i $b > 0$.

D. $a < 0$ i $b < 0$.

Brudnopis																			

Zadanie 20. (0–1) 

W rombie o boku długości $6\sqrt{2}$ kąt rozwarty ma miarę 150° .

Dokończ zdanie. Wybierz właściwą odpowiedź spośród podanych.

Iloczyn długości przekątnych tego rombu jest równy


A. 24

B. 72

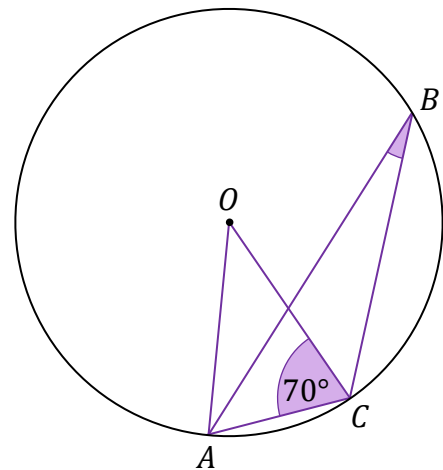
C. 36

D. $36\sqrt{2}$

Brudnopis																			

Zadanie 21. (0–1) 

Punkty A, B, C leżą na okręgu o środku w punkcie O .
Kąt ACO ma miarę 70° (zobacz rysunek).



Dokończ zdanie.

Wybierz właściwą odpowiedź spośród podanych.

Miara kąta ostrego ABC jest równa

A. 10°

B. 20°

C. 35°

D. 40°


Brudnopis																			



Zadanie 22. (0–2)

Trójkąty prostokątne T_1 i T_2 są podobne. Przyprostokątne trójkąta T_1 mają długości 5 i 12. Przeciwprostokątna trójkąta T_2 ma długość 26.


Oblicz pole trójkąta T_2 . Zapisz obliczenia.



22.

0–1–2

--

Zadanie 23. (0–1) 

W kartezjańskim układzie współrzędnych (x, y) dane są proste k oraz l o równaniach

$$k: y = \frac{2}{3}x$$


$$l: y = -\frac{3}{2}x + 13$$


Dokończ zdanie. Wybierz odpowiedź A albo B oraz odpowiedź 1., 2. albo 3.

Proste k oraz l

A.	są prostopadłe	i przecinają się w punkcie P o współrzędnych	1.	$(-6, -4)$
			2.	$(6, 4)$
B.	nie są prostopadłe		3.	$(-6, 4)$

Brudnopis






Zadanie 30. (0–2)


Ze zbioru ośmiu liczb $\{2, 3, 4, 5, 6, 7, 8, 9\}$ losujemy ze zwracaniem kolejno dwa razy po jednej liczbie.

30.


0–1–2


Oblicz prawdopodobieństwo zdarzenia A polegającego na tym, że iloczyn wylosowanych liczb jest podzielny przez 15. Zapisz obliczenia.






BRUDNOPIS (nie podlega ocenie)







MATEMATYKA

Poziom podstawowy

Formuła 2023



MATEMATYKA

Poziom podstawowy

Formuła 2023



MATEMATYKA

Poziom podstawowy

Formuła 2023

