

WYPEŁNIA ZDAJĄCY

KOD

--	--	--

PESEL

--	--	--	--	--	--	--	--	--	--	--	--

Miejsce na naklejkę.

Sprawdź, czy kod na naklejce to
M-100.

Jeżeli tak – przyklej naklejkę.
Jeżeli nie – zgłoś to nauczycielowi.

Egzamin maturalny

Formuła 2023

HISTORIA

Poziom rozszerzony

Symbol arkusza

MHIP-R0-100-2505

DATA: 19 maja 2025 r.

GODZINA ROZPOCZĘCIA: 9:00

CZAS TRWANIA: 180 minut

LICZBA PUNKTÓW DO UZYSKANIA: 60

Przed rozpoczęciem pracy z arkuszem egzaminacyjnym

1. Sprawdź, czy nauczyciel przekazał Ci **właściwy arkusz egzaminacyjny**, tj. arkusz we **właściwej formule**, z **właściwego przedmiotu** na **właściwym poziomie**.
2. Jeżeli przekazano Ci **niewłaściwy** arkusz – natychmiast zgłoś to nauczycielowi. Nie rozrywaj banderol.
3. Jeżeli przekazano Ci **właściwy** arkusz – rozerwij banderole po otrzymaniu takiego polecenia od nauczyciela. Zapoznaj się z instrukcją na stronie 2.





Instrukcja dla zdającego

1. Sprawdź, czy arkusz egzaminacyjny zawiera 34 strony (zadania 1–25).
Ewentualny brak zgłoś przewodniczącemu zespołu nadzorującego egzamin.
2. Na pierwszej stronie oraz na karcie odpowiedzi wpisz swój numer PESEL i przyklej naklejkę z kodem.
3. Zapoznaj się uważnie ze źródłami, a następnie wykonaj zadania umieszczone pod nimi. Odpowiadaj tylko na podstawie źródeł i tylko własnymi słowami – chyba że w zadaniu polecono inaczej. Udzielaj tylu odpowiedzi, o ile Cię poproszono.
4. Odpowiedzi zapisz w miejscu na to przeznaczonym przy każdym zadaniu.
5. Pisz czytelnie. Używaj długopisu/pióra tylko z czarnym tuszem/atramentem.
6. Nie używaj korektora, a błędne zapisy wyraźnie przekreśl.
7. Nie wpisuj żadnych znaków w tabelkach przeznaczonych dla egzaminatora. Tabelki umieszczone są na marginesie przy każdym zadaniu.
8. Pamiętaj, że zapisy w brudnopisie nie będą oceniane.



**Zadania egzaminacyjne są wydrukowane
na następnych stronach.**

Zadanie 1.

Źródło 1. Fotografie naczyń



Na podstawie: <https://www.metmuseum.org>; <https://www.memphistours.com>

Źródło 2. Fragment opracowania historycznego

Zmarłego zabierano do domu oczyszczenia. Ciało kładziono na stole i wydobywano mózg. Jeden z kapłanów-chirurgów wyspecjalizowanych w preparowaniu zwłok nacinał prawy bok, posługując się nożem. Potem przez tę ranę wyciągał wnętrzności, w tym celu przerywał przeponę. Organy wydobyte w ten sposób umieszczano w naczyniach. Znajdowały się one pod opieką czterech synów Horusa.

Na podstawie: N. Grimal, *Dzieje [...]*, Warszawa 2016, s. 139.

1.1.

0-1

Zadanie 1.1. (0-1)

Rozstrzygnij, która fotografia ze źródła 1. – A, B czy C – przedstawia naczynie wykorzystywane podczas rytuału opisanego w źródle 2. Odpowiedź uzasadnij, odwołując się do obu źródeł.

Rozstrzygnięcie:

Uzasadnienie:

.....

.....

.....



Zadanie 1.2. (0–1)

Wyjaśnij wpływ wierzeń religijnych na praktyki przedstawione w źródle 2.

.....

.....

.....

.....

1.2.

0–1

--

Zadanie 2. (0–1)

Źródło 1. Fragment tekstu religijnego

Czekając na nich w Atenach, obruszał się Paweł w duchu swoim na widok miasta oddanego bałwochwalstwu. Rozprawiał więc w synagodze z Żydami i z pobożnymi, a na rynku każdego dnia z tymi, którzy się tam przypadkiem znaleźli. Niektórzy zaś z filozofów epikurejskich i stoickich ścierali się z nim. Jedni mówili: Cóż to chce powiedzieć ten bazarz? Drudzy zaś: Zdaje się, że jest zwiastunem obcych bogów. Zwiastował im bowiem dobrą nowinę o Jezusie i zmartwychwstaniu. Zabrali go i zaprowadzili na Areopag, mówiąc: Czy możemy dowiedzieć się, co to za nowa nauka, którą głosisz?

Na podstawie: *Biblia [...] z apokryfami*, Warszawa 1990, s. 1403.

Źródło 2. Fragment opracowania historycznego

Rada Areopagu stała na straży praw i ustroju, miała nadzór nad władzą wykonawczą i kontrolowała generalnie administrację spraw państwowych. Do jej kompetencji należało również wymierzanie kar doraźnych, od których nie było apelacji. Efiates i Perykles przeprowadzili na Zgromadzeniu reformę demokratyczną. Heliąja przejęła niektóre sędownicze funkcje Areopagu, jak sprawy o bezbożność.

Na podstawie: N.G.L. Hammond, *Dzieje Grecji*, Warszawa 1977, s. 207, 352.

Rozstrzygnij, czy wydarzenia opisane w źródle 1. miały miejsce przed reformą opisaną w źródle 2. czy po niej. Odpowiedź uzasadnij, odwołując się do treści obu źródeł.

Rozstrzygnięcie:

Uzasadnienie:

.....

.....

.....

2.

0–1

--

Zadanie 3.

Współczesna fotografia budowli starożytnej



Na podstawie: <https://pl.wikipedia.org>

3.1.

Zadanie 3.1. (0–1)

0–1

Podaj – inną niż most – funkcję budowli zaprezentowanej na fotografii, jaką pełniła ta budowla w starożytności.

.....

3.2.

Zadanie 3.2. (0–1)

0–1

Rozstrzygnij, czy zaprezentowana budowla jest typowa dla cywilizacji starożytnej Grecji czy starożytnego Rzymu. Odpowiedź uzasadnij, odwołując się do jednego widocznego na fotografii elementu architektonicznego.

Rozstrzygnięcie:

Uzasadnienie:

.....

.....

.....



Zadanie 4. (0–2)

Uzupełnij tabelę – wpisz obok każdego z opisów stosowaną w historiografii nazwę zakonu, którego dany opis dotyczy.

4.

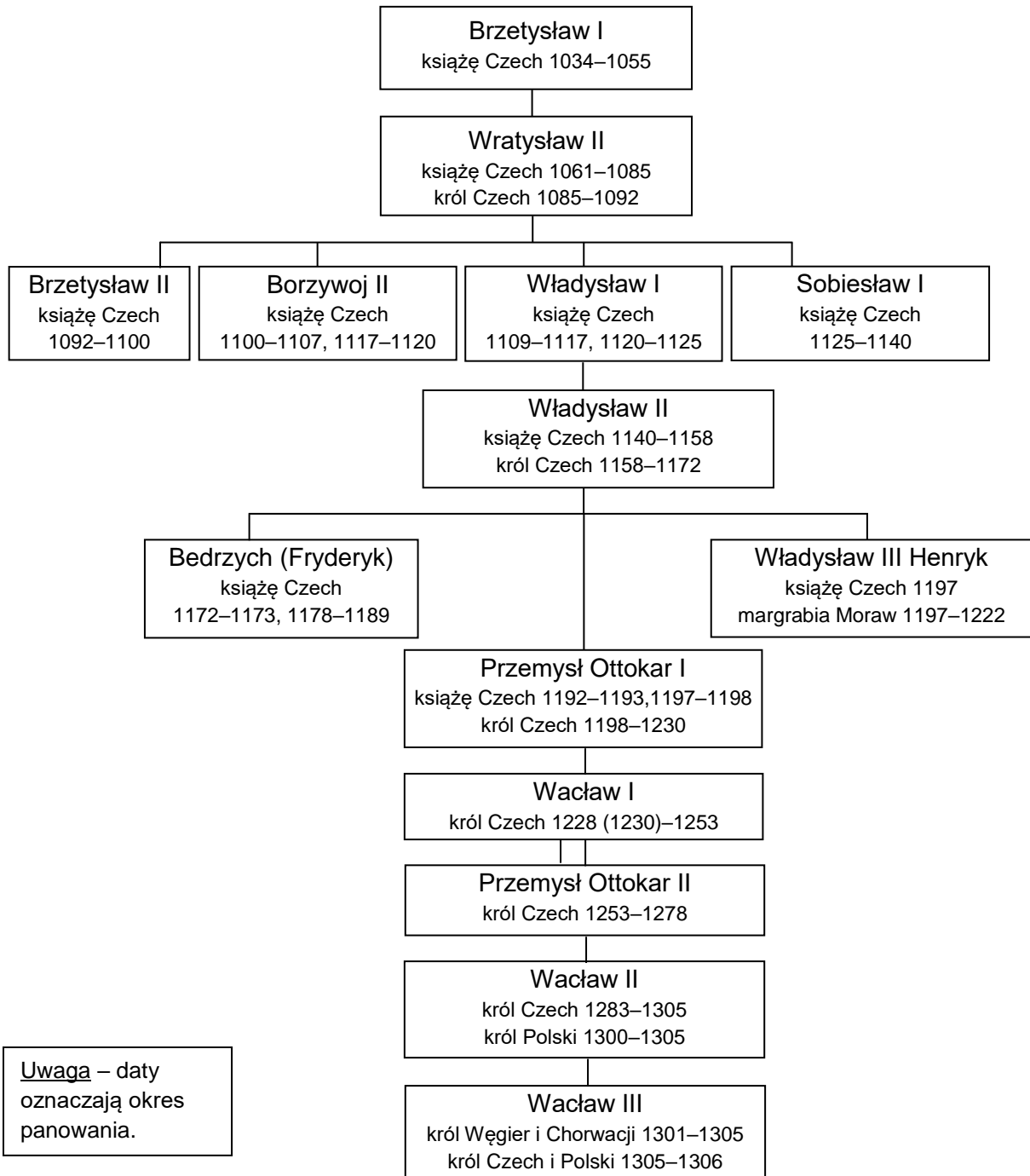
0–1–2

	Opis zakonu	Nazwa zakonu
A.	Bracia mniejsi, zakon żebrzący, założony w 1209 r. we Włoszech. Reguła zakonu głosiła potrzebę ubóstwa indywidualnego i wspólnotowego. Zakładali klasztory w miastach, gdzie prowadzili działalność wśród plebsu, w której kładli nacisk na umiłowanie natury.	
B.	Męski zakon mniszy, założony w VI w. we Włoszech. Około 529 r. powstał pierwszy klasztor zakonny na Monte Cassino. Reguła zakonu kładła duży nacisk na modlitwę oraz pracę umysłową. Zakonnicy prowadzili kancelarie dworskie, skrytoria klasztorne, szkoły, biblioteki, szpitale.	
C.	Męski zakon kleryków regularnych, założony w 1534 r. Na czele zakonu stał wybierany dożywotnio generalny przełożony (zwany generałem), bezpośrednio podległy papieżowi. Celem zakonu, obok nauczania i prowadzenia misji, było wspieranie papieża w trudnych zadaniach. Zakonnicy składali dodatkowy ślub – bezwzględnego posłuszeństwa papieżowi.	

Na podstawie: *Encyklopedia szkolna. Historia*, Warszawa 2004, s. 70–71, 228–229, 334–335.

Zadanie 5.

Źródło 1. Fragment tablicy genealogicznej dynastii Przemyślidów



Na podstawie: *Dynastie Europy*, red. A. Mączak, Wrocław 2009, s. 266–267.



Źródło 2. Fragmenty opracowań historycznych

Fragment A:

Koronacji dokonał arcybiskup Jakub Świnka, a w samej Wielkopolsce jego kandydatura zyskała uznanie. Trudno więc mówić tu o uzurpacji, zwłaszcza że po gwałtownej śmierci Przemysła II idea królewskiej korony polskiej znów przeszła w sferę wizji i planów, a nie faktów. [...] Pod bezpośrednim władaniem nowego króla znajdowały się Małopolska i większość ziem Wielkopolski. Wkrótce też rozciągnął swą władzę na Pomorze Gdańskie, gdzie poparł go najbardziej znaczący ród Święców.

Fragment B:

Z wielkim wojskiem uderzył wprost w serce piastowskiego państwa. Spotkał wprawdzie opór, ale zbyt słaby, aby powstrzymać najeźdźców. Giecz i Kruszwica poddały się bez walki, padły Gniezno, Poznań i Ostrów (gdzie archeologicznie mamy uchwytny ślad zacieklej obrony piastowskiej drużyny). W Poznaniu zbezczeszczono groby Piastów, z Gniezna wywieziono [relikwie świętego], a także ogromne skarby.

T. Jurek, E. Kizik, *Historia Polski do 1572*, Warszawa 2013, s. 85;
S. Rosik, P. Wiszewski, *Poczet polskich królów i książąt*, Wrocław 2005, s. 212–213.

Zadanie 5.1. (0–1)

Każdemu wydarzeniu opisanemu we fragmentach A–B (źródło 2.) przyporządkuj władcę ze źródła 1., który był związany z tym wydarzeniem. Odpowiedzi zapisz poniżej.

Fragment A –

Fragment B –

5.1.

0–1

Zadanie 5.2. (0–1)

Rozstrzygnij, o którym świętym – Stanisławie czy Wojciechu – jest mowa we fragmencie B ze źródła 2. Odpowiedź uzasadnij, odwołując się do treści źródła.

Rozstrzygnięcie:

Uzasadnienie:

.....

.....

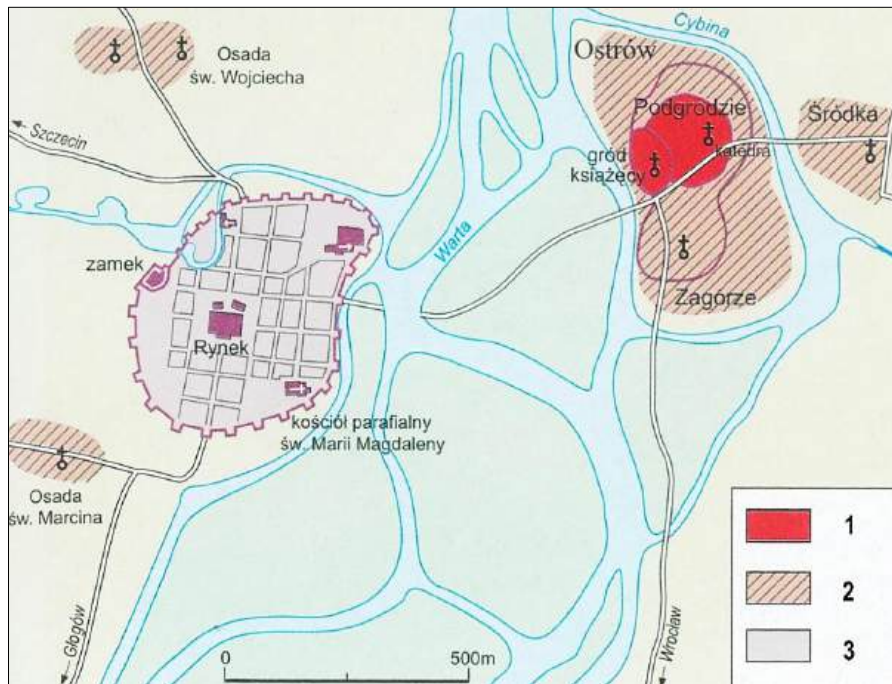
.....

5.2.

0–1

Zadanie 6. (0–1)

Plan miasta



Na podstawie: M. Tymowski, *Człowiek i historia* [...], Warszawa 2002, s. 79.

6. Rozstrzygnij, którą cyfrą – 1, 2 czy 3 – oznaczono w legendzie obszar miasta lokowanego na prawie niemieckim. Odpowiedź uzasadnij, odwołując się do informacji z planu.

0–1

Rozstrzygnięcie:

Uzasadnienie:

.....
.....
.....

Zadanie 7.

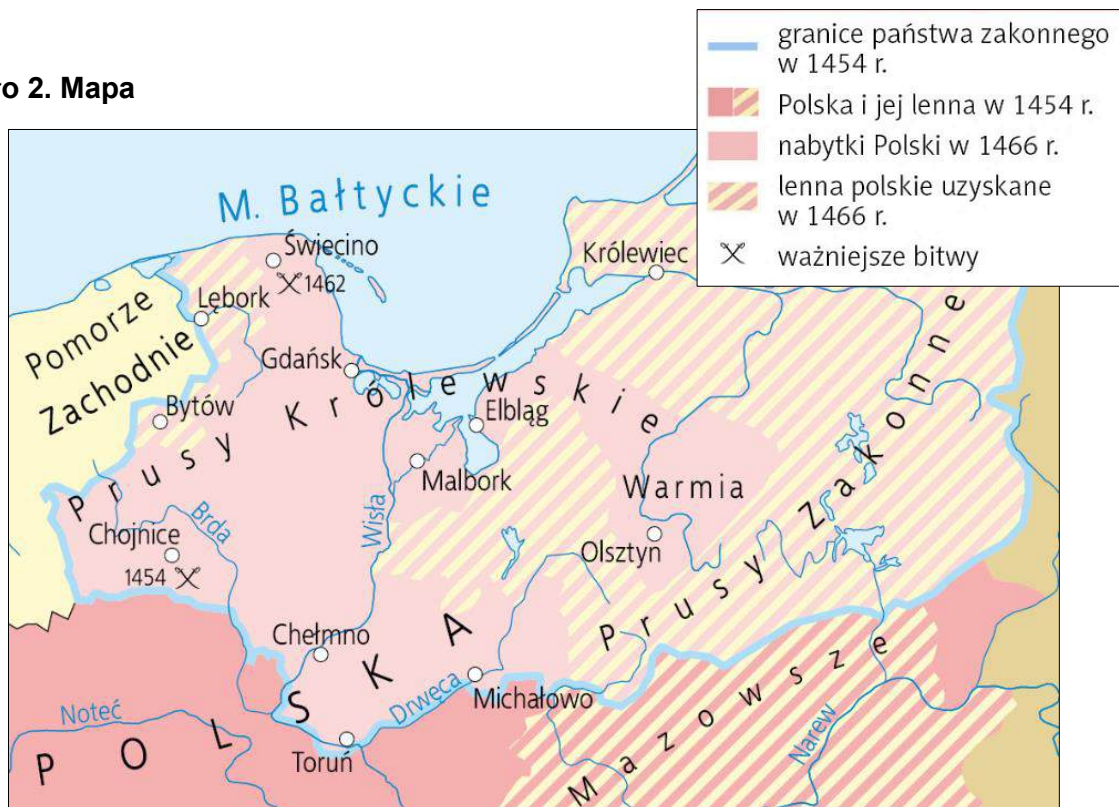
Źródło 1. Fragment dokumentu

[W]szystkich mieszkańców ziemi pruskiej, chełmińskiej, królewieckiej, elbląskiej i pomorskiej [...] przyjęliśmy i objęliśmy w dobrowolne i samorządne poddanie się. Przyjęliśmy ich pod rządy, opiekę, w panowanie, poddaństwo i posłuszeństwo, a brzmieniem niniejszego nie przez pomyłkę lub nieopatrzenie, lecz z całą naszą wiedzą i wolą w imię Boże podejmujemy i przyjmujemy, ziemie i państwa wymienione do Królestwa Polskiego przyłączamy, ponownie włączamy, wcielamy i inkorporujemy oraz dopuszczamy, przyłączamy, włączamy do użytkowania i uczestnictwa we wszystkich dobrach, prawach, wolnościach i prerogatywach, które dotąd posiadają prałaci, panowie, szlachta Królestwa Polskiego [...].

L. Matusik, *Teksty źródłowe* [...], Wrocław 1975, s. 282.



Źródło 2. Mapa



Na podstawie: [https://mapyonline.\[...\].pl](https://mapyonline.[...].pl)

Zadanie 7.1. (0–1)

Rozstrzygnij, czy źródła 1. i 2. odnoszą się do tej samej wojny. Odpowiedź uzasadnij, odwołując się do informacji z obu źródeł.

Rozstrzygnięcie:

Uzasadnienie:

.....
.....
.....

7.1.
0–1
<input type="text"/>

Zadanie 7.2. (0–1)

Dokończ zdanie. Zaznacz właściwą odpowiedź spośród podanych.

Wystawcą dokumentu cytowanego w źródle 1. był

- A. Jan Olbracht.
- B. Władysław Jagiełło.
- C. Kazimierz Jagiellończyk.
- D. Władysław Warneńczyk.

7.2.
0–1
<input type="text"/>

Zadanie 8. (0–2)

Kościół św. Jana Chrzciciela w Gnieźnie



N podstawie: <https://wzgorzelecha.pl>

8.

0–1–2

Podaj nazwy dwóch stylów architektonicznych, które reprezentuje kościół przedstawiony na fotografii, oraz wymień po jednej widocznej cesze każdego z tych stylów.

Nazwa stylu 1.:

Cecha:

Nazwa stylu 2.:

Cecha:

Zadanie 9.

Fragmenty dokumentu

My, Rady Koronne [...] jednej a nierozzerwalnej Rzeczypospolitej [...] oznajmujemy [...], iż pod tym niebezpiecznym czasem, bez króla pana zwierzchniego mieszkając, staraliśmy się o to wszyscy pilnie na zjeździe warszawskim, jako byśmy przykładem przodków swych sami między sobą pokój, sprawiedliwość, porządek i obronę Rzeczypospolitej zatrzymać i zachować mogli. [...] A iż w Rzeczypospolitej naszej jest *dissidium* [różność] niemale *in causa religionis christianae* [w sprawie religii chrześcijańskiej], zabiegając temu, aby się z tej przyczyny między ludźmi *seditio* [bunt] jaka szkodliwa nie wszczęła, którą po inszych królestwach [...] widzimy, obiecujemy to sobie spólnie [...], iż którzy jesteście *dissidentes de religione* [rozdzieleni w wierze], pokój między sobą zachować, a dla różnej wiary i odmiany w kościele krwi nie przelewać [...].

Wiek XVI–XVIII w źródłach [...], oprac. M. Sobańska-Bondaruk, S.B. Lenard, Warszawa 1999, s. 146.



Zadanie 9.1. (0–1)**Dokończ zdanie. Zaznacz właściwą odpowiedź spośród podanych.**

Dokument został uchwalony w okresie bezkrólewia po śmierci

- A. Zygmunta Augusta.
- B. Stefana Batorego.
- C. Zygmunta III.
- D. Władysława IV.

9.1.

0–1

Zadanie 9.2. (0–1)**Podaj stosowaną w historiografii nazwę dokumentu zacytowanego w źródle.**

.....

9.2.

0–1

Zadanie 9.3. (0–1)**Podaj stosowaną w historiografii nazwę wydarzeń we Francji, do których nawiązali autorzy dokumentu.**

.....

9.3.

0–1

Zadanie 10. (0–1)**Rewers medalu upamiętniającego podpisanie traktatu**

Szczerliwie odzyskany
22 września Kamieniec
na Podolu.

<https://www.wilanow-palac.pl>**Oceń prawdziwość poniższych stwierdzeń. Zaznacz P, jeśli stwierdzenie jest prawdziwe, albo F – jeśli jest fałszywe.**

1.	Traktat upamiętniony na medalu został podpisany za panowania Jana III Sobieskiego.	P	F
2.	Traktat upamiętniony na medalu kończył wojny Rzeczypospolitej z Portą Otomańską.	P	F

10.

0–1

Zadanie 11.

Fragmenty dokumentów

Fragment dokumentu A: §1. Wszelka niniejszym przyznana władza ustawodawcza przysługuje Kongresowi [...], który składa się z Senatu i z Izby Reprezentantów.

§2. W skład Izby Reprezentantów wchodzi członkowie wybierani co dwa lata przez ludność poszczególnych stanów [...].

Fragment dokumentu B: Władzę wykonawczą powierza się Dyrektoriatowi [złożonemu] z pięciu członków, wybieranych przez ciało prawodawcze w celu wykonywania czynności zgromadzenia wyborczego w imieniu narodu.

Fragment dokumentu C: Osoba króla jest święta i bezpieczna od wszystkiego [...]. Dochody tak, jak [...] i prerogatywy tronu właściwe, niniejszą konstytucją [...] zawarowane, tkniętymi być nie będą mogły. [...] Straż, czyli rada królewska, do dozoru całości i egzekucji praw królowi dodana, składać się będzie: 1-mo, z prymasa jako głowy duchowieństwa [...]; 2-do, z pięciu ministrów [...].

T. Maresz, K. Juszczyk, *Historia w tekstach źródłowych* [...], t. 2, Rzeszów 2000, s. 28, 39–41; *Wiek XVI–XVIII w źródłach* [...], oprac. M. Sobańska-Bondaruk, S.B. Lenard, Warszawa 1999, s. 436.

11.1.

Zadanie 11.1. (0–2)

0–1–2

Każdemu fragmentowi dokumentu (A–C) przyporządkuj nazwę państwa, w którym dokument ten został uchwalony. Odpowiedzi zapisz poniżej.

Fragment A –

Fragment B –

Fragment C –

11.2.

Zadanie 11.2. (0–1)

0–1

Rozstrzygnij, który z dokumentów zacytowanych we fragmentach A–C powstał najwcześniej. Odpowiedź uzasadnij, odwołując się do źródeł i wiedzy własnej.

Rozstrzygnięcie:

Uzasadnienie:

.....

.....

.....

Zadanie 12. (0–1)

Źródło 1. Fragment dekreту

Z Bożej łaski, My, Mikołaj I, [...] Król Polski etc. postanowiliśmy i stanowimy:

[...] W mieście Naszym stołecznym Warszawie ustanawiamy Bank pod nazwiskiem Banku Polskiego [...]. [...] Bank mocen jest wypuszczać bilety bankowe [...].

Wiek XIX w źródłach [...], oprac. M. Sobańska-Bondaruk, S.B. Lenard, Warszawa 2002, s. 153–154.



Źródło 2. Banknot



[https://\[...\]monet.pl](https://[...]monet.pl)

Rozstrzygnij, czy banknot zaprezentowany w źródle 2. został wyemitowany przez bank, o którym mowa w źródle 1. Odpowiedź uzasadnij, odwołując się do informacji zawartych w obu źródłach.

12.

0-1

Rozstrzygnięcie:

Uzasadnienie:

Zadanie 13. (0-1)

List do fabrykanta, początek XIX wieku

Dopiero co dostarczono mi informacji, że jest Pan posiadaczem tych nienawistnych maszyn [włókienniczych]. Moi ludzie pragną, bym napisał do Pana i ostrzegł, jak należy, aby Pan zniszczył je, i z tego powodu pragnę, aby Pan zrozumiał dobrze to, co piszę do Pana. Proszę przyjąć do wiadomości, że jeśli nie zostaną one zniszczone do końca następnego tygodnia, polecę jednemu z mych poruczników, by na czele 300 ludzi zburzył je.

Wiek XIX w źródłach [...], oprac. M. Sobańska-Bondaruk, S.B. Lenard, Warszawa 2001, s. 133.

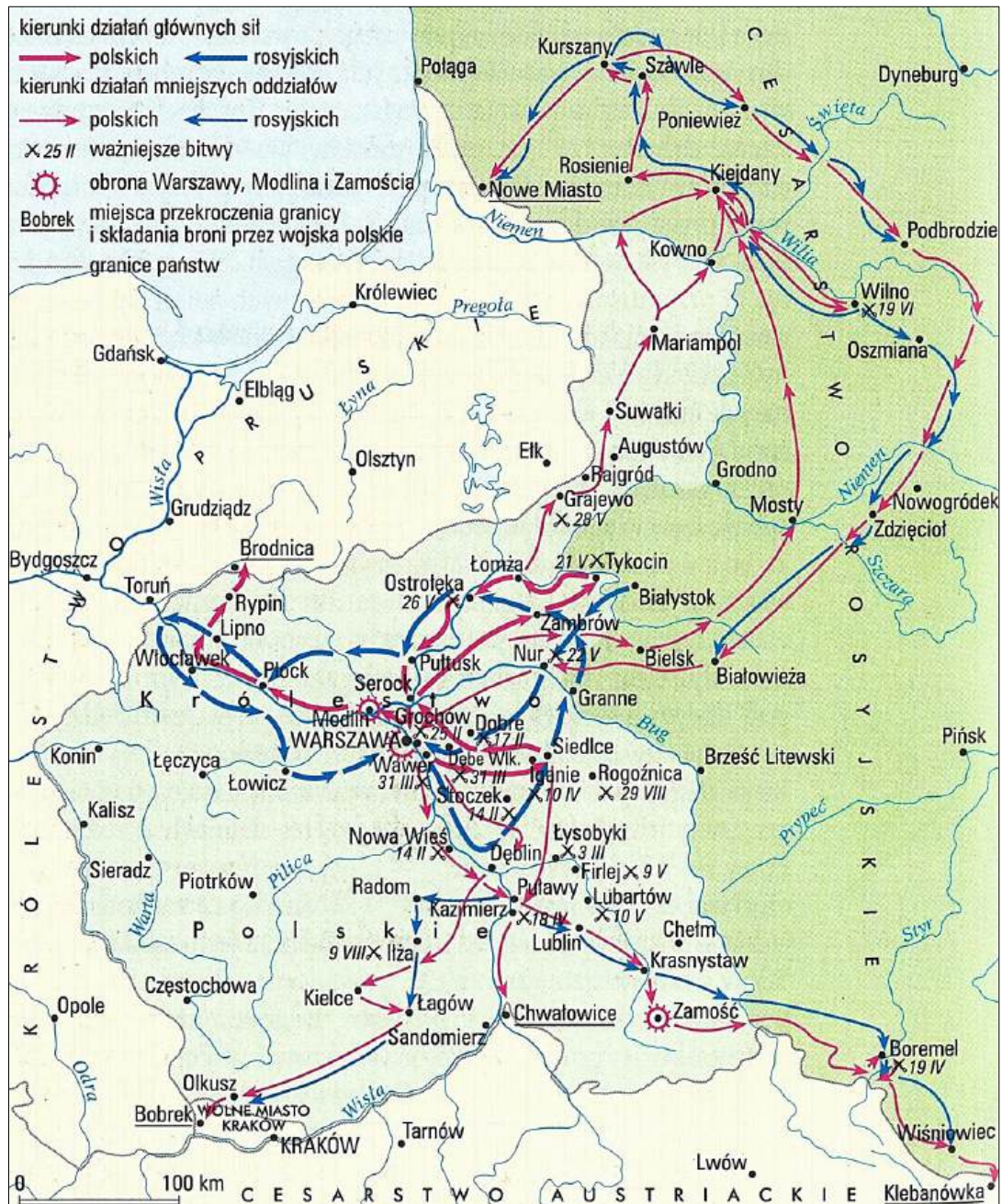
Wyjaśnij społeczne motywy nazwania przez autora listu maszyn parowych *nienawistnymi*.

13.

0-1

Zadanie 14.

Źródło 1. Mapa ziem polskich w czasie jednego z powstań narodowych



Na podstawie: *Wielka Encyklopedia PWN*, red. J. Wojnowski, t. 22, Warszawa 2004, s. 176.



Źródło 2. Herby powstańcze na szablach



Na podstawie: <https://muzeumwp.pl>; J. Jarosławski, *Szable powstańców* [...], Warszawa 2023, s. 96.

Zadanie 14.1. (0–1)

Rozstrzygnij, który z herbów przedstawionych w źródle 2. (A czy B) został ustanowiony podczas powstania zilustrowanego w źródle 1. Odpowiedź uzasadnij, odwołując się do źródeł i wiedzy własnej.

14.1.

0–1

Rozstrzygnięcie:

Uzasadnienie:

.....

Zadanie 14.2. (0–2)

Oceń prawdziwość poniższych stwierdzeń. Zaznacz P, jeśli stwierdzenie jest prawdziwe, albo F – jeśli jest fałszywe.

14.2.

0–1–2

1.	Działania zbrojne ukazane w źródle 1. toczyły się m.in. na tzw. ziemiach zabranych.	P	F
2.	Układ granic widocznych na mapie był efektem postanowień pokoju w Tylży.	P	F
3.	Jedną z bohaterek powstania, którego przebieg przedstawiono na mapie, była Emilia Plater.	P	F

Zadanie 15.

Fragment opracowania historycznego

Port w Liverpoolu był głównym ośrodkiem odpowiedzialnym za dostawy importowanej bawełny dla brytyjskiego przemysłu włókienniczego. Ponad 80% tego importu pochodziło ze Stanów Zjednoczonych. Przywódcy konfederatów wierzyli, że jest to skuteczne narzędzie nacisku, które pozwoli im skłonić Wielką Brytanię do udziału w wojnie, i nałożyli embargo na dostawy bawełny. Ceny bawełny podskoczyły z 6,25 do 27,25 pensów za funt. Import spadł z 2,6 mln bel w 1860 r. do niecałych 72 tys. w 1862 r. Pozbawieni dostaw bawełny, robotnicy nie mieli żadnego zajęcia. Pod koniec 1862 r. połowa z nich znalazła się na bruku. Blisko jedna czwarta wszystkich mieszkańców hrabstwa żyła dzięki dobroczynności społecznej. Ten okres nazwano „głodem bawełnianym”.

Na podstawie: N. Ferguson, *Potęga pieniądza* [...], Kraków 2015, s. 96–97.

15.1.

0–1

Zadanie 15.1. (0–1)

Oceń prawdziwość poniższych stwierdzeń. Zaznacz P, jeśli stwierdzenie jest prawdziwe, albo F – jeśli jest fałszywe.

1.	Głód bawełniany był społeczno-gospodarczą konsekwencją wybuchu wojny secesyjnej.	P	F
2.	Autor tekstu tłumaczy wysokie bezrobocie zmianą technologii produkcji włókienniczej.	P	F

15.2.

0–1

Zadanie 15.2. (0–1)

Rozstrzygnij, czy – zdaniem autora – o wprowadzeniu zakazu eksportu bawełny do Wielkiej Brytanii zdecydowała strona zwolenników czy strona przeciwników abolicjonizmu. Odpowiedź uzasadnij, odwołując się do treści źródła.

Rozstrzygnięcie:

Uzasadnienie:

.....

.....

.....

Zadanie 16.

Źródło 1. Fragment artykułu

A gdym się zastanowił nad narodem, z którym mię wiązało wszystko, co cieszy, i wszystko, co boli, wszystko, co we mnie myśli, i wszystko, co czuje, przychodziłem do przekonania, że moje dziecinne marzenia i rojenia zespalają się z moim młodzieńczym światopoglądem. Socjalista w Polsce dążyć musi do niepodległości kraju, a niepodległość jest znamienym warunkiem zwycięstwa socjalizmu w Polsce.

[...], *Myśli, mowy i rozkazy*, Warszawa 1989, s. 75.



Źródło 2. Strony tytułowe czasopism



Historia Polskiego Rewolucyjnego Ruchu Robotniczego, Warszawa 1975, faksymile.

Zadanie 16.1. (0–1)

Rozstrzygnij, które z czasopism ukazanych w źródle 2. – A czy B – prezentowało treści zbieżne z poglądami autora źródła 1. Odpowiedź uzasadnij, odwołując się do informacji z tekstu i właściwej strony tytułowej czasopisma.

16.1.

0–1

Rozstrzygnięcie:

Uzasadnienie:

.....

.....

.....

Zadanie 16.2. (0–1)

Rozstrzygnij, czy rewolucja, o której informuje czasopismo B, zakończyła się obaleniem monarchii w Rosji. Odpowiedź uzasadnij, odwołując się do faktografii.

16.2.

0–1

Rozstrzygnięcie:

Uzasadnienie:


.....

.....

.....

Zadanie 17.

Źródło 1. *Przebudzenie* – amerykańska ilustracja z 1915 roku



Na podstawie: <https://www.loc.gov>

Źródło 2. XIX poprawka do Konstytucji Stanów Zjednoczonych [18 sierpnia 1920 roku]

Stany Zjednoczone ani którykolwiek ze stanów nie może obywateli Stanów Zjednoczonych pozbawić praw wyborczych ani ograniczyć ich ze względu na płeć.

<http://libr.sejm.gov.pl>

17.1.

Zadanie 17.1. (0–1)

0–1 Podaj nazwę ruchu społeczno-politycznego, do którego osiągnięć odnoszą się źródła.

17.2.

Zadanie 17.2. (0–1)

0–1 Dokończ zdanie. Zaznacz właściwą odpowiedź spośród podanych.


W Polsce prawo, do którego nawiązują oba źródła, zostało wprowadzone w roku

- A. odzyskania niepodległości.
- B. uchwalenia konstytucji marcowej.
- C. uchwalenia konstytucji kwietniowej.
- D. zakończenia II wojny światowej.



Zadanie 18. (0–3)

***Twoja kolej, Germanio!* – francuski rysunek z 1919 roku**



Na podstawie: <https://gallica.bnf.fr>

Wyjaśnij przesłanie rysunku, interpretując jego dwa elementy graficzne i tytuł. W odpowiedzi uwzględnij kontekst historyczny z roku powstania tego rysunku.

.....

.....

.....

.....

.....

.....

.....

.....

.....

.....

.....

.....

.....

.....

.....

.....

.....

.....

.....

.....

.....

.....

.....

18.
0-1-
2-3

Zadanie 19. (0–2)

Fragment konstytucji marcowej

Art. 40. Jeżeli Prezydent Rzeczypospolitej nie może sprawować urzędu, oraz w razie opróżnienia urzędu Prezydenta Rzeczypospolitej wskutek śmierci, zrzeczenia się lub innej przyczyny, zastępuje go Marszałek Sejmu.

Art. 41. W razie opróżnienia urzędu Prezydenta Rzeczypospolitej Sejm i Senat łączą się natychmiast na zaproszenie Marszałka Sejmu i pod jego przewodnictwem z samego prawa w Zgromadzenie Narodowe celem wyboru Prezydenta.

<http://libr.sejm.gov.pl>

19.

0–1–2

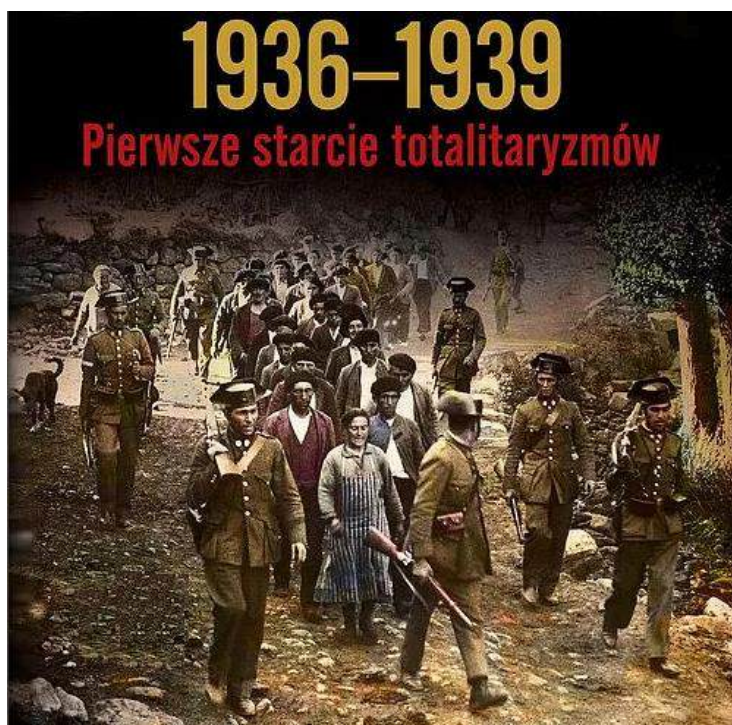
Wymień dwa wydarzenia z dziejów II Rzeczypospolitej, które spowodowały konieczność zastosowania zacytowanych zapisów konstytucji.

Wydarzenie 1.:

Wydarzenie 2.:

Zadanie 20. (0–1)

Fragment okładki książki



Na podstawie: www.profinfo.pl

20.

0–1

Podaj stosowane w historiografii nazwy dwóch totalitaryzmów, do których nawiązuje tytuł książki.

•

•



Zadanie 21.

Źródło 1. Fragment strony tytułowej czasopisma



Na podstawie: <https://www.jbc.bj.uj.edu.pl>

Źródło 2. Fragment plakatu



Na podstawie: <https://muzeumplock.eu>

Zadanie 21.1. (0–1)

Podaj nazwisko polskiego ekonomisty związanego z inwestycjami, do których odnoszą się źródła 1. i 2.

.....

21.1.

0–1

Zadanie 21.2. (0–1)

Rozstrzygnij, które źródło – 1. czy 2. – nawiązuje do inwestycji rozpoczętej w okresie rządów sanacji w Polsce. Odpowiedź uzasadnij, odwołując się do faktografii.

Rozstrzygnięcie:

Uzasadnienie:

.....

.....

.....

21.2.

0–1

Zadanie 22. (0–1)

Źródło 1. Fragment dokumentu traktatowego

30 lipca 1941 [...]. Rząd Związku Socjalistycznych Republik Rad oświadcza swą zgodę na tworzenie na terytorium Związku Socjalistycznych Republik Rad Armii Polskiej, której dowódca będzie mianowany przez rząd Rzeczypospolitej Polskiej w porozumieniu z rządem Związku Socjalistycznych Republik Rad. Armia Polska na terytorium Związku Socjalistycznych Republik Rad podlegać będzie w sprawach operacyjnych Naczelnemu Dowództwu Związku Socjalistycznych Republik Rad, w składzie którego będzie się znajdować przedstawiciel Armii Polskiej.

Wiek XX w źródłach [...], oprac. M. Sobańska-Bondaruk, S.B. Lenard, Warszawa 2001, s. 257–258.

Źródło 2. Fragment opracowania historycznego

Nikt się nie spodziewał, że ocena udziału 1. dywizji w bitwie pod Lenino do południa drugiego dnia stanowiła podstawę do podjęcia przez Wodza Naczelnego Radzieckich Sił Zbrojnych, marszałka Józefa Stalina, decyzji o wycofaniu kościuszkowców z dalszej walki. Marszałek Stalin w rozmowie z Wandą Wasilewską uznał, że kościuszkowcy w ciągu dwóch dni pokazali już, że nie tylko chcą walczyć u boku Armii Radzieckiej przeciwko wspólnemu wrogowi, ale także umieją walczyć.

K. Sobczak, [...], Warszawa 1988, s. 189–190.

22. Rozstrzygnij, czy źródło 2. przedstawia losy formacji wojskowej, która powstała na mocy traktatu przytoczonego w źródle 1. Odpowiedź uzasadnij, odwołując się do obu źródeł.

0–1

Rozstrzygnięcie:

Uzasadnienie:

.....
.....
.....



Zadanie 23. (0–1)

W. Dobrowolski – *Armia pokoju*



<https://encyklopediateatru.pl>

Podaj nazwę stylu w sztuce reprezentowanego przez przedstawiony obraz. Odpowiedź uzasadnij, charakteryzując jedną widoczną cechę tego stylu.

23.

0–1

Nazwa:

Uzasadnienie:

.....

.....

.....

Zadanie 24.

Źródło 1. Fragment opracowania historycznego

[Bilans porozumienia] wydaje się następujący: ekipa Jaruzelskiego, nie rezygnując z kontroli nad najistotniejszymi narzędziami sprawowania władzy, postanowiła zbudować dla umiarkowanej części opozycji reglamentowane miejsce w systemie politycznym, a równocześnie przesunąć rzeczywiste centrum dyspozycji politycznej z Komitetu Centralnego PZPR do urzędu prezydenta, którym zostać miał Jaruzelski. W stosunku do ofert składanych opozycji jeszcze przed okrągłym stołem, najważniejszy sukces strony solidarnościowej stanowiła decyzja o wolnych wyborach do Senatu. Jednak to nie okrągły stół, ale wydarzenia czterech następnych miesięcy przesądziły o tym, że Polską co najmniej do 1995 r. nie rządził – jako prezydent PRL – generał Jaruzelski. W kwietniu 1989 r., gdy składano podpisy pod porozumieniami okrągłego stołu, ta ostatnia perspektywa wydawała się całkiem realna.

A. Dudek, *Historia polityczna Polski* [...], Warszawa 2007, s. 28.

Źródło 2. Fragment opracowania historycznego

Porozumienie Okrągłego Stołu zadziwiało świat jako niezwykle przykład rozwiązania głębokiego, wieloletniego konfliktu politycznego. Polska jako pierwszy kraj „realnego socjalizmu” wychodziła ku tworzeniu systemu pluralistycznego i demokratycznego. Ułożone przy Okrągłym Stole zręby ustroju konstytucyjnego oznaczały bardzo głęboką zmianę istniejącego porządku. Pierwszą instytucją prawdziwej demokracji parlamentarnej miał być Senat, który – choć zachowywał ograniczone kompetencje – nie był jednak instytucją „malowaną”. [...] Zapisy [...] dotyczące poszerzenia wolności słowa i druku, możliwości zrzeszania się w organizacjach społecznych i zawodowych dawały podstawę do budowania demokratycznego społeczeństwa. Uprawniony jest więc pogląd, że Okrągły Stół był wielkim zwycięstwem solidarnościowej opozycji. Zwycięstwem ponadto osiągniętym bezkrwawo oraz otwierającym drogę do budowy państwa demokratycznego i stabilnego wewnątrz. Współautorami Okrągłego Stołu byli również przedstawiciele władz; bez ich współdziałania, wykazanej zdolności do cofania się ta droga przemian byłaby zablokowana.

A. Friszke, *Polska. Losy państwa i narodu* [...], Warszawa 2003, s. 458–459.

24.1.

0–1–2

Zadanie 24.1. (0–2)

Porównaj oceny porozumienia okrągłego stołu zaprezentowane w źródłach 1. i 2. – przedstaw jedno podobieństwo i jedną różnicę między tymi ocenami.

Podobieństwo:

.....

.....

.....

.....

.....



Różnica:

.....

.....

.....

.....

Zadanie 24.2. (0–1)

Podaj nazwę państwa europejskiego, w którym w 1989 roku doszło do krwawego obalenia dyktatury komunistycznej.

24.2.

0–1

Zadanie 25. (0–15)

Zadanie zawiera trzy tematy. Wybierz jeden z nich do opracowania. Twoja wypowiedź powinna liczyć minimum 300 wyrazów.

25.

0–15

1. Władysław Jagiełło był najwybitniejszym władcą Polski z dynastii Jagiellonów. Zajmij stanowisko wobec powyższej tezy i je uzasadnij, uwzględniając w swojej argumentacji aspekty: militarny, ustrojowy i społeczno-gospodarczy.
2. Lata 1871–1914 są niesłusznie określane jako *belle époque* (piękna epoka). Zajmij stanowisko wobec powyższej tezy i je uzasadnij, uwzględniając w swojej argumentacji aspekty: polityczny, społeczno-gospodarczy i kulturowy.
3. Rok 1956 był przełomem w systemie komunistycznym. Zajmij stanowisko wobec powyższej tezy i je uzasadnij, uwzględniając w swojej argumentacji wydarzenia z trzech wybranych państw bloku komunistycznego.

WYPRAWIANIE
na temat nr

.....

.....

.....

.....

.....

.....

.....

.....

BRUDNOPIS (*nie podlega ocenie*)



HISTORIA

Poziom rozszerzony

Formuła 2023



HISTORIA

Poziom rozszerzony

Formuła 2023



HISTORIA

Poziom rozszerzony

Formuła 2023

